

제 4 교시

사회탐구 영역(경제)

성명

수험번호

2

제 [] 선택

1. 다음 자료는 갑국 헌법의 경제 관련 내용이다. 이를 통해 추론할 수 있는 갑국 경제 체제의 특징만을 <보기>에서 고른 것은?

- 모든 국민의 재산권은 보장된다.
- 경제 질서는 개인과 기업의 경제 상의 자유와 창의를 존중함을 기본으로 한다.

< 보 기 >

- ㄱ. 경제적 유인을 중시한다.
- ㄴ. 생산 수단을 국가가 소유한다.
- ㄷ. 시장 가격에 의한 자원 배분이 강조된다.
- ㄹ. 정부의 계획에 의해 기본적인 경제 문제가 해결된다.

- ① ㄱ, ㄴ ② ㄱ, ㄷ ③ ㄴ, ㄷ ④ ㄴ, ㄹ ⑤ ㄷ, ㄹ

2. 그림은 경제 수업에서 학생이 필기한 내용이다. 이에 대한 옳은 설명만을 <보기>에서 고른 것은? [3점]

1. 합리적 선택의 의미

- (1) 편익: 선택을 통해 얻는 만족이나 이득.
- (2) A: 경제적 선택을 할 때 포기하는 대안 중 가장 가치가 큰 것.
- (3) 편익이 A보다 클 때 합리적 선택임.

< 보 기 >

- ㄱ. A는 명시적 비용과 암묵적 비용의 합이다.
- ㄴ. 동일한 경제적 선택을 한 사람은 모두 A가 같다.
- ㄷ. 합리적 선택을 하려면 A는 고려하되, 매물 비용은 고려해 서는 안 된다.
- ㄹ. 아르바이트를 포기하고 무료로 영화를 관람할 경우, 영화 관람에 대한 A는 발생하지 않는다.

- ① ㄱ, ㄴ ② ㄱ, ㄷ ③ ㄴ, ㄷ ④ ㄴ, ㄹ ⑤ ㄷ, ㄹ

3. 표는 X재를 판매하는 상점 A~C의 가격 할인 방식이다. 이에 대한 옳은 설명만을 <보기>에서 고른 것은? (단, X재 한 개의 가격은 1,000원이고, 한 상점에서 모두 구입한다.) [3점]

상점 구입 개수	A	B	C
두 개	개당 10% 할인	개당 20% 할인	할인 없음
세 개	개당 10% 할인된 가격에서 추가로 20% 할인	개당 20% 할인된 가격에서 추가로 10% 할인	세 개 모두 30% 할인

< 보 기 >

- ㄱ. X재 두 개를 구입할 때 최소 비용은 1,700원이다.
- ㄴ. X재 세 개를 구입하려면 C에서 사는 것이 합리적이다.
- ㄷ. X재 세 개를 A에서 구입한다면, 개당 가격은 700원이다.
- ㄹ. X재 세 개를 구입할 경우, 세 상점 중 두 곳의 개당 가격은 같다.

- ① ㄱ, ㄴ ② ㄱ, ㄷ ③ ㄴ, ㄷ ④ ㄴ, ㄹ ⑤ ㄷ, ㄹ

4. 밑줄 친 전망이 나타나게 된 원인으로 가장 적절한 것은?

미국 프로 야구 시장에서 갑을 영입하려는 경쟁이 심화되고 있다. 갑과 비슷한 실력을 갖춘 을이 전날 ○○ 구단과 계약하면서 뛰어난 실력을 갖춘 선발 투수 중 갑만 아직 계약이 확정되지 않았다. 갑을 영입하려는 7개 구단의 경쟁으로 갑의 연봉이 2,000만 달러까지 치솟을 것으로 전망되고 있다.

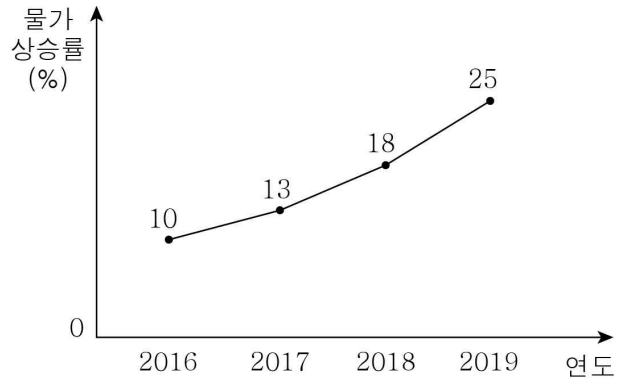
- ① 선발 투수가 회귀하기 때문이다.
- ② 갑과 을의 성적 경쟁이 치열해졌기 때문이다.
- ③ 구단 간에 공정한 영입 경쟁이 보장되지 않기 때문이다.
- ④ 각 구단이 갑의 영입에 따른 효용을 극대화하려하기 때문이다.
- ⑤ 각 구단의 기대를 충족시킬 수 있는 선발 투수가 부족하기 때문이다.

5. 다음 자료에 대한 설명으로 옳은 것은?

- 커피 전문점 주인인 갑은 커피를 판매하기 위해 ㉠ 커피 원두를 구입하였다.
- 커피 애호가인 을은 집에서 커피를 마시기 위해 ㉡ 커피 원두를 구입하였다.

- ① 갑은 만족을 추구하는 활동을 하였다.
- ② 을의 경제 활동 목표는 이윤 극대화이다.
- ③ 갑은 을과 달리 민간 경제 주체이다.
- ④ 갑과 을의 행위는 모두 생산 활동에 해당한다.
- ⑤ ㉠은 ㉡과 달리 생산 요소에 해당한다.

6. 그림에 나타난 갑국의 경제 상황이 지속될 때 예상할 수 있는 변화로 옳은 것은?



- ① 갑국 화폐의 가치가 상승한다.
- ② 돈을 빌린 사람은 불리해진다.
- ③ 봉급생활자의 실질 임금이 상승한다.
- ④ 예금과 같은 금융 자산을 소유한 사람은 유리해진다.
- ⑤ 일정한 금액을 연금으로 받아 생활하는 사람은 불리해진다.

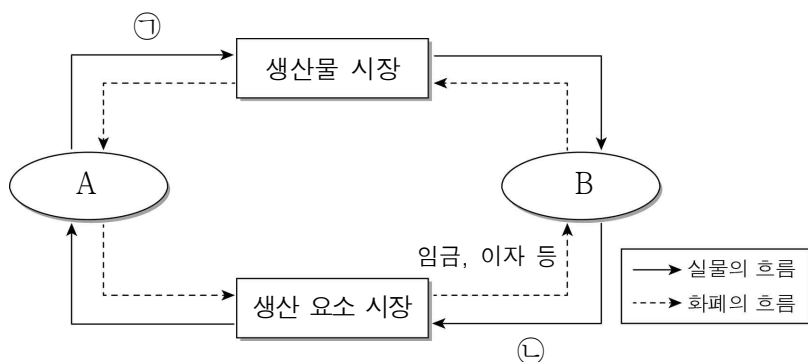
7. 표는 국내 총생산에 대한 질문과 학생들의 답변이다. 모든 질문에 옳게 응답한 학생은? [3점]

질문	갑	을	병	정	무
개인 간 중고 상품의 거래 금액은 국내 총생산에 포함되는가?	×	×	×	○	×
국내 거주 외국인 노동자의 월급은 국내 총생산에 포함되는가?	○	○	×	○	○
텃밭에서 키워 직접 소비한 상추의 가치는 국내 총생산에 포함되는가?	×	○	○	×	×
국내 총생산이 클수록 반드시 그 나라 국민의 삶의 만족도가 높은가?	×	×	○	×	○
국내 총생산으로 그 나라의 소득 분배 상태가 얼마나 평등한지 알 수 있는가?	×	×	×	○	×

(○: 예, ×: 아니요)

- ① 갑 ② 을 ③ 병 ④ 정 ⑤ 무

8. 그림은 민간 경제의 순환을 나타낸다. 이에 대한 설명으로 옳은 것은? (단, A, B는 각각 가계와 기업 중 하나이다.)



- ① ㉠에는 노동과 자본이 포함된다.
- ② ㉡에는 공공재가 포함된다.
- ③ A는 생산 요소 시장의 수요자이다.
- ④ B는 재화와 서비스를 생산하는 주체이다.
- ⑤ A와 달리 B는 정부에 세금을 납부한다.

9. 다음 자료에 나타난 갑국 정부 활동의 목적으로 가장 적절한 것은?

갑국에서는 환경에 영향을 미치는 개발 계획이나 사업 추진에 대해 정부가 해당 계획과 사업이 환경에 미치는 영향의 정도를 미리 예측하고 평가한다. 그리고 이를 바탕으로 환경에 미치는 영향이 부정적으로 예상되는 개발 계획이나 사업에 대해서는 환경 보전 방안 등을 반드시 마련하도록 하고 있다.

- ① 경제 성장을 촉진한다.
- ② 물가 안정을 유도한다.
- ③ 외부 불경제를 예방한다.
- ④ 공정한 경쟁을 촉진한다.
- ⑤ 소득 불평등을 완화한다.

10. (가), (나)에 대한 설명으로 옳은 것은? [3점]

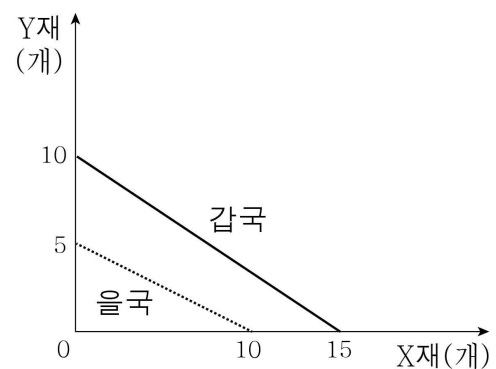
(가) 갑국의 자동차 시장에는 공급자가 하나밖에 없다. 공급자가 이윤을 높이기 위해 생산량을 줄이고 가격을 올리자 소비자들은 높은 비용을 지불할 수밖에 없었다.

(나) 을국에서는 가로등이 매우 부족하지만 누구도 가로등 설치를 위한 비용을 부담하려고 하지 않는다. 이로 인해 많은 사람들이 불편을 겪고 있다.

- ① (가)에서는 자동차가 과다 공급된다.
- ② (나)에서는 불완전한 경쟁의 문제점이 나타난다.
- ③ (가)와 달리 (나)에서는 시장을 통해 자원이 효율적으로 배분된다.
- ④ (나)와 달리 (가)에서는 무임승차자 문제가 나타난다.
- ⑤ (가), (나) 모두 정부가 시장에 개입하는 근거가 된다.

11. 다음 자료에 대한 분석으로 옳은 것은? [3점]

그림은 X재와 Y재만 생산하는 갑국과 을국의 생산 가능 곡선이다. 양국은 생산 요소의 양이 같고, 비교 우위가 있는 재화에만 특화하여 교역한다.



- ① 갑국은 X재 15개와 Y재 10개를 동시에 생산할 수 있다.
- ② 을국은 X재 생산에 절대 우위를 가진다.
- ③ Y재 1개 생산의 기회비용은 갑국이 을국보다 크다.
- ④ 갑국은 Y재, 을국은 X재 생산에 비교 우위를 가진다.
- ⑤ 특화한 후 생산되는 X재의 총량은 15개, Y재의 총량은 5개이다.

12. 그림의 대화에 대한 옳은 설명만을 <보기>에서 고른 것은? [3점]



- < 보 기 >
- ㄱ. 갑은 자유 무역 협정 체결에 반대한다.
 - ㄴ. 갑은 을에 비해 무역을 통한 경제 성장의 효과를 중시할 것이다.
 - ㄷ. 을은 갑에 비해 소비자의 다양한 상품 선택 기회를 중시할 것이다.
 - ㄹ. ㉠에는 '경쟁력을 갖추지 못한 국내 산업의 쇠퇴'가 들어갈 수 있다.

- ① ㄱ, ㄴ ② ㄱ, ㄷ ③ ㄴ, ㄷ ④ ㄴ, ㄹ ⑤ ㄷ, ㄹ

13. 표는 우리나라 5대 수출 품목의 변화를 나타낸다. 이에 대해 옳게 설명한 학생만을 <보기>에서 고른 것은?

순위	1970년	2015년
1위	섬유류	반도체
2위	합판	자동차
3위	가발	선박
4위	철광석	무선 통신 기기
5위	전자 제품	석유 제품

- < 보 기 >
- 갑: 비교 우위를 가지는 상품의 변화를 알 수 있어요.
 - 을: 1970년에는 주로 노동 집약적 상품을 수출했어요.
 - 병: 2015년에는 자본과 기술보다 자연 자원이 중요한 생산 요소였어요.
 - 정: 1970년에 비해 2015년에 무역 의존도가 낮아졌음을 알 수 있어요.

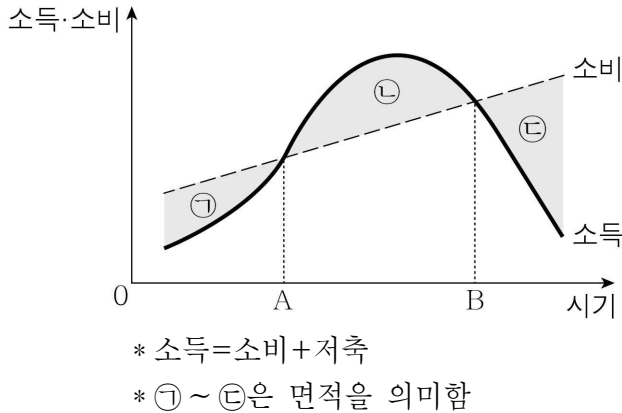
- ① 갑, 을 ② 갑, 병 ③ 을, 병 ④ 을, 정 ⑤ 병, 정

14. 표는 금융 상품 A~C의 일반적인 특징을 비교한 것이다. 이에 대한 설명으로 옳은 것은? (단, A~C는 각각 정기 예금, 주식, 채권 중 하나이다.)

질문	A	B	C
만기가 정해져 있는가?	아니요	예	예
시세 차익을 기대할 수 있는가?	예	예	아니요
(가)	예	아니요	아니요

- ① A는 예금자 보호법에 의해 보호받을 수 있다.
- ② B는 이자 수익을 기대할 수 없다.
- ③ C의 소유자는 주주로서 권리를 가질 수 있다.
- ④ A는 C에 비해 안전성이 높다.
- ⑤ (가)에는 '배당금을 받을 수 있는가?'가 들어갈 수 있다.

15. 그림은 생애 주기에 따른 소득과 소비 곡선이다. 이에 대한 옳은 설명만을 <보기>에서 고른 것은?



- < 보 기 >
- ㄱ. ㉡은 저축에 해당한다.
 - ㄴ. 평균 수명의 연장은 ㉢이 커질 수 있는 요인이 된다.
 - ㄷ. ㉢은 ㉠과 달리 부채에 해당한다.
 - ㄹ. A~B 시기에는 소득 대비 소비의 비중이 지속적으로 증가한다.

- ① ㄱ, ㄴ ② ㄱ, ㄷ ③ ㄴ, ㄷ ④ ㄴ, ㄹ ⑤ ㄷ, ㄹ

16. 표는 갑국의 고용 지표 관련 인구 변화를 나타낸다. 이에 대한 옳은 분석만을 <보기>에서 고른 것은? [3점]

(단위: 만 명)

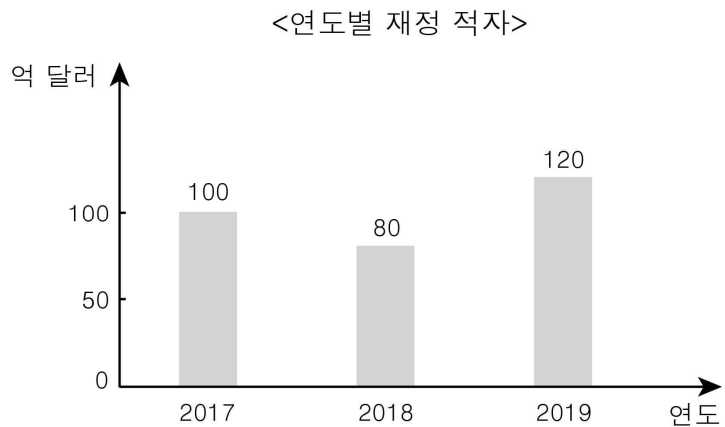
구분	15세 이상 인구	경제 활동 인구	실업자 수
2018년	100	80	8
2019년	120	70	14

- * 경제 활동 참가율(%)=(경제 활동 인구/15세 이상 인구)×100
- * 고용률(%)=(취업자 수/15세 이상 인구)×100
- * 실업률(%)=(실업자 수/경제 활동 인구)×100

- < 보 기 >
- ㄱ. 고용률은 상승했다.
 - ㄴ. 실업률은 상승했다.
 - ㄷ. 취업자 수는 감소했다.
 - ㄹ. 경제 활동 참가율은 상승했다.

- ① ㄱ, ㄴ ② ㄱ, ㄷ ③ ㄴ, ㄷ ④ ㄴ, ㄹ ⑤ ㄷ, ㄹ

17. 그림은 갑국 정부가 경제 안정화를 위해 시행한 재정 정책으로 인해 나타난 결과를 보여 준다. 이에 대한 옳은 설명만을 <보기>에서 고른 것은? (단, 갑국은 2016년에 균형 재정 상태였다.) [3점]




< 보 기 >

- ㄱ. 경기를 부양하려는 목적이 있었을 것이다.
 ㄴ. 물가 안정보다 고용 증대를 목표로 하였을 것이다.
 ㄷ. 2017년에는 재정 지출보다 재정 수입이 더 많았다.
 ㄹ. 2018년과 달리 2019년에는 긴축 재정 정책을 추진하였다.

- ① ㄱ, ㄴ ② ㄱ, ㄷ ③ ㄴ, ㄷ ④ ㄴ, ㄹ ⑤ ㄷ, ㄹ

18. 그림은 갑~병이 2019년에 수입을 사용한 내역을 나타낸다. 이에 대한 옳은 분석만을 <보기>에서 고른 것은? [3점]



* 비소비 지출: 소비의 목적이 아니라 조세나 공적 연금 납입금처럼 법 또는 제도에 의해서 의무적으로 지출해야 하는 비용.

< 보 기 >

- ㄱ. 소비 지출 대비 비소비 지출의 비중은 병이 가장 크다.
 ㄴ. 갑은 병에 비해 소비 지출 금액이 크다.
 ㄷ. 을은 갑에 비해 자산을 분산하여 투자하였다.
 ㄹ. 수익성이 가장 높은 금융 상품에 대한 투자 금액은 을과 병이 같다.

- ① ㄱ, ㄴ ② ㄱ, ㄷ ③ ㄴ, ㄷ ④ ㄴ, ㄹ ⑤ ㄷ, ㄹ

19. 표는 X재의 가격대별 수요량과 공급량을 나타낸다. 이에 대한 분석으로 옳은 것은? (단, X재의 수요자는 갑과 을 2명뿐이고, 공급자는 병 1명뿐이다.)

가격(원)	수요량(개)		공급량(개)
	갑	을	병
900	1	0	7
800	2	1	6
700	3	2	5
600	4	3	4
500	5	4	3
400	6	5	2
300	7	6	1

- ① 가격이 400원일 경우 가격 하락 압력이 발생한다.
 ② 가격이 800원일 경우 3개의 초과 수요가 발생한다.
 ③ 가격이 900원일 경우 을은 거래에 참여한다.
 ④ 가격이 500원일 때와 800원일 때 시장 거래량은 동일하다.
 ⑤ 균형 가격에서 병은 7,000원의 판매 수입을 얻는다.

20. 그림의 경제 수업 장면에 대한 설명으로 옳은 것은? [3점]

다음은 X재와 연관재 관계에 있는 재화의 가격 변화가 적혀 있는 카드입니다. 하나를 선택하여 자신이 선택한 카드에 적힌 내용이 X재 시장에 미치는 영향에 대해 설명해 볼까요?

대체재
가격
상승

대체재
가격
하락

보완재
가격
상승

보완재
가격
하락

저는 '대체재 가격 상승' 카드를 선택했습니다. X재 시장에서는 (㉠)이/가 예상됩니다.

저는 '보완재 (㉡)' 카드를 선택했습니다. X재의 수요가 감소하여 균형 가격이 하락할 것입니다.

모두 정확하게 대답했습니다.

갑 을 병

- ① 갑이 선택한 카드에 따르면 X재 수요는 감소할 것이다.
 ② 을이 선택한 카드에 따르면 X재의 균형 거래량은 증가한다.
 ③ 갑과 을이 선택한 카드에 따른 X재 균형 가격의 변화 방향은 같다.
 ④ ㉠에는 '균형 가격의 상승, 균형 거래량의 증가'가 들어갈 수 있다.
 ⑤ ㉡은 '가격 하락'이다.

* 확인 사항

- 답안지의 해당란에 필요한 내용을 정확히 기입(표기)했는지 확인하십시오.